

版权所有  
复制必究

# 2018年“福久杯”公考模拟大赛 行政职业能力测试

## 题 本

福久教育公考教研团队  
二〇一八年十一月

答题注意事项

- 一、此项测验分为五个部分，共 135 小题，总时限为 120 分钟。
- 二、请按照要求在答题卡上填写好自己的姓名，涂写好准考证号，严禁折叠答题卡。
- 三、必须在答题卡上答题；在题本上答题，一律无效。
- 四、监考人员宣布考试开始时，方可答题，宣布考试结束时，应立即停止答题。题本、答题卡、草稿纸一律留在桌上，待监考人员确认数量无误，允许离开后，方可离开考场。如果你违反了以上任何一项要求，都将影响你的成绩。
- 五、在这项测验中，可能有些试题较难，因此你不要在一道题上思考时间太久，遇到不会答的题目，可先跳过去，如果有时间再去思考，否则，你可能没有时间完成后面的题目。
- 六、试题答错或不答不倒扣分。

请核实在试卷和答题卡上的个人信息后，继续阅读

第一部分 常识判断  
(共20题，参考时限15分钟)

根据题目要求，在四个选项中选出一个最恰当的答案。  
请开始答题：

1. 干支纪年法始于东汉，下列采用了干支纪年法的一项是（ ）
- A. 贞观之治 B. 黄道吉日  
C. 辛丑条约 D. 安史之乱
2. 没有物就没有影，事实和思想的关系就是物与影的关系，这种观点属于（ ）
- A. 近代形而上学的、机械的 B. 唯物论和辩证法的合理结合  
C. 世界观和方法论的有机统一 D. 古代朴素的和辩证的唯物主义
3. 甲让乙给自己加工一块玉石原料，约定好加工费和取玉期限。但乙加工好玉石，等到期满后，甲迟迟不来取玉，乙便变卖了玉石，拿到了自己应得的加工费，请问，乙行使的是（ ）
- A. 所有权 B. 留置权  
C. 抵押权 D. 担保权
4. 我国是社会主义国家，法的实施的基本要求是（ ）
- A. 司法机关严格适用国家法律  
B. 国家各类机关要依法办事  
C. 各级干部要带头模范执行和遵守国家法律  
D. 全体公民和一切组织要自觉守法
5. 1930年5月，毛泽东写了《反对本本主义》一文，鲜明表达了实事求是、（ ）和独立自主的根本观点，毛泽东思想活的灵魂已具雏形。
- A. 统一战线 B. 农村包围城市  
C. 群众路线 D. 武装夺取政权
6. 交通运输部收到了某省交通运输厅询问公路养护部门性质的请示后，经与财政部、人力资源社会保障部、国家发展和改革委员会等部门研究，明确公路养护部门为事业单位的性质并正式答复该省交通运输厅。交通运输部应采用的公文文种是（ ）
- A. 批示 B. 回复 C. 通知 D. 批复
7. 下列关于生活常识的说法，错误的是（ ）
- A. 草酸可以除去衣服上的铁锈 B. 冷冻食品用热水解冻效果更好  
C. 糖是人体热量的最大供给源 D. 儿童不宜使用含氟牙膏
8. 改革开放以来，我国主要区域政策经历了不同的阶段：①以经济特区为中心的沿海地区优先发展阶段；②以缩小区域差距为导向的西部大开发阶段；③以浦东开发为龙头的沿江沿边地区重点发展阶段；④以区域协调发展为导向的共同发展阶段。这四个阶段按时间顺序排列应为（ ）
- A. ①②③④ B. ①③②④  
C. ②③①④ D. ②①③④
9. 下列有关文学常识的表述，不正确的一项是（ ）
- A. 被称作“前四史”的史书是：《史记》、《汉书》、《三国志》和《后汉书》  
B. 元曲四大家是：关汉卿、白朴、马致远和郑光祖  
C. 被鲁迅称为“晚清四大谴责小说”的是：《官场现形记》、《儒林外史》、《老残游记》和《孽海花》  
D. 莎士比亚的四大悲剧是：《哈姆雷特》、《李尔王》、《奥赛罗》和《麦克白》
10. 商品经济产生和存在的条件是（ ）
- A. 自然经济存在和发展  
B. 社会化大生产和资本主义私有制  
C. 社会化大生产和社会主义公有制  
D. 社会分工和生产资料及产品属于不同所有者
11. 下列关于隐形飞机的原理，说法错误的是（ ）
- A. 外层涂料的颜色为天蓝色或者银白色，以避免被雷达发现  
B. 除了发动机、电子设备等部件，飞机上的其他部件用透波材料来制作  
C. 改进发动机的进气道和尾喷口等所有能产生镜面反射的表面，以减少对雷达波的反射  
D. 隐形飞机采用非金属材料或者雷达吸波材料，吸收而不是反射雷达波
12. 道教是我国土生土长的宗教，它兴起于（ ）
- A. 春秋时期 B. 战国时期  
C. 西汉时期 D. 东汉时期
13. 关于天体及其运行，下列表述错误的是（ ）
- A. 天球是为了确定天体位置和运动而假想的圆球  
B. 在火星和木星轨道之间存在一个小行星带  
C. 黄道面是指月球绕地球运行的轨道面  
D. 星座是指在地球上投影位置相近的恒星群落
14. 出海远行的船，在视线最后消失的是船的桅杆，既然水是平的，出现这种情况的原因是（ ）
- A. 船越走越远，人的眼看不清楚  
B. 船下沉了  
C. 海平面不是平的，它和地球表面是平行的，是一个平滑的球面  
D. 是类似于海市蜃楼的一种错觉
15. 党的十八大报告提出两个百年奋斗目标，一个是在中国共产党成立一百年时全面建成小康社会，一个是在新中国成立一百年时建成富强、民主、文明、和谐的社会主义现代化国家，这两个百年奋斗目标最早提出是在（ ）
- A. 党的十五大 B. 党的十六大  
C. 党的十七大 D. 党的十八大
16. 下列对我国基本国情描述不正确的有（ ）
- A. 我国陆地面积 960 万平方千米，居世界第四  
B. 我国目前共有 4 个直辖市，5 个民族自治区  
C. 我国民族分布的特点是以汉族为主体的大杂居、小聚居，交错杂居  
D. 我国水资源的分布情况是南多北少，耕地的分布是南少北多
17. “将多兵众，不可以敌，使其自累，以杀其势。在师中吉，呈天宠也。”这是出自三十六计中的（ ）
- A. 偷梁换柱 B. 隔岸观火 C. 连环计 D. 上屋抽梯
18. 在电磁波谱中，可见光、红外线和紫外线三个波段的频率大小关系是（ ）
- A. 红外线最高，可见光最低 B. 紫外线最高，红外线最低  
C. 可见光最高，红外线最低 D. 红外线最高，紫外线最低
19. 下列诗句中，能说明秦岭是地理分界线的是（ ）
- A. 山前桃花山后雪 B. 山寺桃花始盛开  
C. 热风吹雨洒江天 D. 五原春色旧来迟
20. 从新中国成立到党的十八届四中全会，中国法治建设经历了多个重大节点。下列关于我国法治建设过程中的重大举措，按时间先后排序正确的一项是（ ）
- ①宣布中国特色社会主义法律体系形成  
②提出依法治国并写入宪法  
③提出发展社会主义，全国人大常委会委员长吴邦国宣布：中国特色社会主义法律体系已经形成；最后是民主与社会主义法制  
④提出全面推进依法治国

- A. ③②①④  
C. ③①④②

- B. ①②③④  
D. ①③④②

**\*第一部分结束，请继续做第二部分!\***

**第二部分 言语理解与表达**  
(共 40 题，参考时限 35 分钟)

本部分包括表达与理解两方面的内容。请根据题目要求，在四个选项中选出一个最恰当的答案。

请开始答题：

21. 所有经典都有其局限性，不加选择地将经典灌输给学生确实是缺乏教育责任的表现。但将经典进行删节，然后将\_\_\_\_\_的“洁本”教给学生，就一定能给学生营造出理想的“世外桃源”吗？

填入画横线部分最恰当的一项是：

- A. 穿凿附会 B. 断章取义 C. 东拼西凑 D. 支离破碎

22. 捐赠制度对美国社会的每一个人和企业都至关重要，因为美国政府是通过税收的方式来\_\_\_\_\_慈善的。倘若个人或企业将收益的部分或全部捐赠给非营利机构，那么它的计税标准就会降低。不过，对于捐赠者来说，把钱捐给任何非营利机构都是一样的，这就让教育机构和文化机构之间形成了类似市场竞争的关系，这有助于社会资源的合理分配，让慈善事业和文化产业也能\_\_\_\_\_。

填入画横线部分最恰当的一项是：

- A. 鼓励 优胜劣汰 B. 提倡 互惠互利  
C. 推广 取长补短 D. 刺激 百家争鸣

23. 一年以来，欧美国家示威、罢工活动\_\_\_\_\_，暴力事件频发，社会乱象\_\_\_\_\_，显示出在经济持续不景气的背景下西方发达国家内部矛盾激化，社会危机加剧。

填入画横线部分最恰当的一项是：

- A. 此起彼伏 层出不穷 B. 此消彼长 惊心动魄  
C. 如火如荼 变本加厉 D. 愈演愈烈 屡见不鲜

24. 到中世纪时期，大多数地区的文明已根深蒂固，难以\_\_\_\_\_，唯独在西方，曾盛行一时的古典文明被连根拔起，为新文明的形成彻底扫清了道路，沿着崭新的道路自由发展。正是西方的这一独特性，使西方能发展经济力量，推动技术进步，产生向海外扩张、\_\_\_\_\_世界诸海路的社会动力，这一重大发展\_\_\_\_\_了中世纪历史的结束。

填入画横线部分最恰当的一项是：

- A. 清除 操纵 宣布 B. 消除 掌握 宣示  
C. 铲除 把持 宣判 D. 根除 控制 宣告

25. 当人类还没有发明文字时，岩画可能就已经诞生了。如今古人记载在绢帛、纸张、器物上的文字多已\_\_\_\_\_，而凿刻、绘制在石头之上的岩画却被完整地保存了下来。不要小看这些粗放的线条、简单的

图形、晦涩的符号，也不要说那些“跃然”石上的羊、牛、马、虎、豹、驼等动物图案过于\_\_\_\_\_，更不要忽略那些狩猎、祭祀、争战、歌舞的画面，那里面可能都含有极为丰富的内涵。

填入画横线部分最恰当的一项是：

- A. 化为乌有 抽象 B. 不翼而飞 粗糙  
C. 荡然无存 直白 D. 踪迹难觅 普通

26. 网络尤其是微博等传播渠道加快了信息传播的速度，很多信息省去了求证环节就被\_\_\_\_\_发布了出去，为流言的传播提供了便利。但是，这些方便快捷的传播渠道，也可以为传播权威信息所用，公开透明的传播渠道本身也有\_\_\_\_\_功能，也可以大大缩短流言的生命期。

填入画横线部分最恰当的一项是：

- A. 直接 自净 B. 随意 反省  
C. 广泛 修正 D. 轻松 过滤

27. 当讲述自己幼年读书的时光时，作者\_\_\_\_\_的叙事，使人有如临其境之感，好像也回到了童年读书时代，并从中受到了强烈的\_\_\_\_\_。

填入画横线部分最恰当的一项是：

- A. 惟妙惟肖 震撼 B. 娓娓动听 感染  
C. 活泼俏皮 触动 D. 精辟深刻 感动

28. 优秀的企业需要什么样的员工？他们需要的不仅仅是\_\_\_\_\_的员工，更需要员工发挥其聪明才智，如果领导者不能充分信任员工、激励员工，很多员工并不会多走一步，主动承担责任，为企业做出额外的贡献。即使员工能对上司的吩咐一五一十地执行，也不会消极怠工，但也绝不会主动\_\_\_\_\_。

填入画横线部分最恰当的一项是：

- A. 朝气蓬勃 完成 B. 兢兢业业 工作  
C. 脚踏实地 改进 D. 言听计从 创新

29. 成语是汉语的精髓，是中华文明的瑰宝。它具有\_\_\_\_\_的特性，常常在一段话甚至一篇文章中起着\_\_\_\_\_的作用，这就使得汉语表述简洁而又传神。

填入画横线部分最恰当的一项是：

- A. 画龙点睛 言简意赅 B. 深入浅出 正本清源  
C. 言简意赅 画龙点睛 D. 正本清源 深入浅出

30. 玩是孩子的天性，这一点很多做父母的都知道；但是怎么玩，玩什么，很多人未必有\_\_\_\_\_的认识。孩子本来可以从玩中开发智慧和能力，但却被白白地\_\_\_\_\_。应该明白，孩子不能为玩而玩，而是要玩出名堂来。

填入画横线部分最恰当的一项是：

- A. 明确 消耗 B. 清楚 浪费  
C. 科学 虚度 D. 合理 耽误

31. 对于宇航员从月球带回的样本，科学家们的\_\_\_\_\_工作可谓做到了家：专门兴建了一个月球物质回收和回归宇航员检疫实验室来接待这些“外星访客”。这样做的目的是为了\_\_\_\_\_科学家利用月壤做实验时不会有任何危险的污染物或者未知的外星生命形式“逃脱”，从而避免\_\_\_\_\_地球生态。

填入划横线部分最恰当的一项是：

- A. 防范 确保 危及                      B. 保障 保证 影响  
C. 预防 担保 破坏                      D. 准备 保护 干扰

32. “手机当电脑用、电脑当电视用、电视当摆设用”，对于电视机制造企业来说，这似乎已经成了一个\_\_\_\_\_的事实。互联网给了视频内容一个\_\_\_\_\_的传输和展示渠道，仅仅作为显示屏的电视似乎难逃被淘汰的命运。如何才能提高这块硕大显示屏的价值？\_\_\_\_\_电视机“智能”，已经成为这个产业的共识。

填入划横线部分最恰当的一项是：

- A. 铁定 快捷 开发                      B. 公认 多维 研究  
C. 严峻 灵活 整合                      D. 尴尬 全新 赋予

33. 英国车，汽车工艺的代表，处处\_\_\_\_\_出高贵、优雅、灵动、恒久的艺术气质。而这一切，源自于英国人一直\_\_\_\_\_的传统造车技艺——始终以手工进行装嵌。

填入划横线部分最恰当的一项是：

- A. 彰显 迷恋                              B. 展示 擅长  
C. 流露 秉承                              D. 体现 坚守

34. 高油价时代，如何节油成为车主们关注的焦点，于是各种节能产品\_\_\_\_\_，汽油清净剂、节油贴、节油丸、省油精等等\_\_\_\_\_。

填入划横线部分最恰当的一项是：

- A. 应运而生 层出不穷                      B. 供不应求 五花八门  
C. 应接不暇 举不胜举                      D. 琳琅满目 屡见不鲜

35. 真正的批评，总是建立在对等的基础之上，只有修养与\_\_\_\_\_对等的人的批评，才值得\_\_\_\_\_和理会。至于无边无际的谩骂，除了\_\_\_\_\_之外，没有任何意义。

填入划横线部分最恰当的一项是：

- A. 才华 关心 气急败坏  
B. 学识 关注 自我贬低  
C. 才情 注目 贻笑大方  
D. 知识 注视 自娱自乐

36. 无论是一个民族还是一个国家，它的文化永远不可能是静止的，而是每时每刻都在发生着变化。这种变化有时很慢，几乎让人感觉不到；但在我们这个时代，任何事情都在飞速发展，全世界的文化也正经历着快速而巨大的转变。在这样的时刻，我们面临的最重大问题仍然是：地区或国家的个性和特征是否能

抵得住全球化、现代化的侵蚀？回答可以是两种：能或者不能。有的文化可能会被削弱甚至被同化，但是如果我们对这个问题保持警惕，就会减少文化的变化进而得以保存下来。

根据这段文字，作者认为：

- A. 文化转变的趋势是不可逆转的  
B. 全球化的侵蚀使文化同化越来越严重  
C. 变化中的文化应保持自己的个性  
D. 文化应该跟随世界的脚步快速转变

37. 河的两岸风光旖旎。西岸，草原一望无际，绿色的波涛逶迤而去，在天际同蓝天连成一片。三四千头一群的野牛在广阔无垠的草原上漫游。有时，一头年迈的野牛劈开波涛，游到河心小岛上，卧在高深的草丛里。看它头上有两弯新月，看它沾满淤泥的漂浮的长髯，你可能把它当成河神。它踌躇满志，望着那壮阔的河流和繁茂而荒野的两岸。

作者接下来最有可能着重介绍的是：

- A. 叙述“河神”野牛的传说  
B. 描写草原上的其他野生动物  
C. 描写位于河岸上自己的家乡  
D. 描写河另一岸的美丽风光

38. 中国人民正在为实现中华民族伟大复兴的中国梦而奋斗。实现中国梦，是物质文明和精神文明均衡发展、相互促进的结果，没有文明的继承和发展，没有文化的弘扬和繁荣，就没有中国梦的实现。实现中国梦，是物质文明和精神文明比翼双飞的发展过程。随着中国经济社会不断发展，中华文明也必将顺应时代发展焕发出更加蓬勃的生命力。

最适合做这段文字标题的是：

- A. 为实现中国梦而奋斗                      B. 伟大复兴的中国梦  
C. 中国人民与中国梦                      D. 中华民族的梦想

39. 决定健康的因素是多样的，经济学家常使用健康生产函数来表示健康状况与投入要素（包括健康禀赋、医疗保健、生活方式、社会经济状况、环境等）之间的关系。其中，健康禀赋差异是先天的、不可避免的。从宏观上分析区域之间的健康差异要从收入、教育和医疗保健利用等方面的差异着眼。

这段文字意在强调：

- A. 人口健康禀赋差异是不可改变的  
B. 分析人口健康应着眼非先天因素  
C. 区域间存在不同的健康生产函数  
D. 投入要素决定了区域间健康差异

40. ①没有甘油，只要到市面上买瓶润肤乳液就行，它的主要成分就含有甘油  
②那些节俭或喜欢动手享受家庭乐趣的朋友，也可以自己动手制作家庭洗手液

③但是自制洗手液由于包装和密封条件不足，最好不要使用容易变质的牛奶或蜂蜜  
 ④其次是加入甘油。甘油不要超过 2%，以免杀菌成分的最终浓度失衡，使杀菌力下降  
 ⑤为适合个人爱好，还可适当加入一些美容成分，比如芦荟原汁，橄榄油等  
 ⑥家庭洗手液主要成分是药用酒精，做法是将酒精与冷开水以 3：1 的比例调成 75%的最终浓度  
 将以上 6 个句子重新排列，语序正确的是：

- A. ②⑥④①⑤③  
 B. ⑥⑤③④①②  
 C. ⑥②③⑤④①  
 D. ②③⑤⑥④①

41. ①学术研究从来都是站在他人的肩膀上眺望，因此不可不对脚底下的肩膀心存敬畏  
 ②写作也好搞学术也罢，哪些东西是人家的，哪些东西是自己的，这个道理本来就清清楚楚  
 ③更何况，西学东渐已有百年以上历程，没有建立起相应的学术规范，这无论如何也说不过去  
 ④否则以后别人踩在你的肩膀上却吭都不吭一声，恐怕自己也会觉得受到了侮辱和损害  
 ⑤把他人的学术成果当作“垫脚石”，总该做个记号表示致敬

将以上 5 个句子重新排列，语序正确的是：

- A. ①②③⑤④  
 B. ②①③⑤④  
 C. ①②④⑤③  
 D. ②①⑤④③

42. 目前，我国正在进行文化体制改革与经济结构调整，发展文化经济有助于经济结构调整。换言之，  
 \_\_\_\_\_。文化发展了，经济也就转型升级了，文化份额的增加和文化产品质量的提高对一个国家和地区经济的转型升级有巨大的直接作用。

填入上文空白处的语句，衔接最好的一项是：

- A. 加快我国经济转型升级，应当多从文化上寻找出路  
 B. 文化经济在经济结构中处于重中之重的地位  
 C. 经济结构决定文化发展，文化产业促进经济进步  
 D. 发展文化经济是调整和改革我国经济结构的前提

43. 生产性保护作为中国非遗保护经验的重要组成部分，已引起缔约国的重视。低层次模仿绝不是生产性保护的应有之义。模仿是传承的基础但不是全部，对既有的艺术佳作进行模仿，尽管能在审美上起到一定的替代作用，甚至打开原作未能表现的艺术空间，也能提供诸多就业岗位，在一定程度上可以合理存在；但一窝蜂地“再创作”，对手工技艺和民间美术类非遗项目的伤害尤为巨大。它非但没有提升反而降低了手工技艺作品的格调，更动摇了手工技艺类项目存在的根基。

根据这段文字，我们可以看出作者的意图是：

- A. 说明生产性保护是非遗保护的有效手段  
 B. 介绍中国手工技艺类项目非遗保护的体验  
 C. 阐述一定程度的模仿属于生产性保护的一种  
 D. 强调低层次模仿对非遗保护的影响弊大于利

44. 当今，自然科学和社会科学之间的界限和分离局面已被打破。多学科相互交叉、相互渗透，这是高度分化、高度综合的科学、技术、经济、社会一体化的结果。因此，知识结构的合理和多元化是科学、技术发展对科技从业人员新的和更高的要求。

作者通过这段文字主要想表达的是：

- A. 自然科学和社会科学之间已经出现了深度的融合  
 B. 科技从业人员将面临自然科学和社会科学一体化所带来的严峻挑战  
 C. 科技从业人员需要具备多方面知识的综合运用能力  
 D. 科技从业人员不仅要有扎实的专业知识，还要有广博的知识面

45. 历史学家有责任把人物的原貌和事件的真相尽可能准确、完整地向读者讲清楚。说“尽可能”，是因为受史料的局限，有些人物和事件无法核实，难以还原事实真相，只能根据掌握的史料做出推断。历史不是自然科学，不能通过公式计算获得精确的数据和结论，对人物和事件的叙述，对动机和起因的推论，对结果和影响的分析，都需要历史学家作出主观的评判。

以上文字重点阐述的是：

- A. 自然科学和历史学的研究方法大不相同  
 B. 历史研究常常因史料限制而无法还原史实  
 C. 历史学家进行推理判断必须依据史料  
 D. 历史研究需要以史料为基础进行主观评判

46. “法之必行”的真正动力来自哪里？有人说靠监督，有人说靠激励，也有人寄希望于惩戒。这些都不无道理，但还有一点往往被人忽视，那就是法治精神的作用。常见媒体有这样的报道，一些考试尽管监考人员众多，监考规则严格，技术手段先进，却依然难以杜绝各种作弊行为。所谓“破山中贼易，破心中贼难”，如果规则活在心中，自然会有“不逾矩”的行动约束。

以上文字意在强调：

- A. “法之必行”可有多种动力来源  
 B. 法治精神是民众守法的内在动力  
 C. 规则本身并不能杜绝违规行为  
 D. 法治精神是活在人们心中的规则

47. 超过半米长的碳纳米管的问世，使其朝应用方向踏出了重要一步。碳纳米管最重要的应用就是制造“又强又韧又轻又便宜”的材料，在天然材料中蛛丝最强韧，而碳纳米管纤维的韧性超过了蛛丝，这样的材料在航空航天领域极其重要。除此之外，碳纳米管还有独特的结构和导电性，可以用来做纳米尺度的电子器件，会比传统的电子器件更小、更灵敏。但是一般的碳纳米管长度不一，结构类型和导电性不同，很难用来规模化地生产结构和性能一致的器件。然而现在的超长碳纳米管克服了这一难题，成为一项巨大突破。

这段文字意在说明碳纳米管的：

A. 应用前景      B. 物理特征      C. 结构性能      D. 研究突破

48. 无论是谈论新闻时事等严肃话题，还是说说家长里短，男人在社交场合使用语言的能力都显得要比女性差。他们可能会不断重复一些多余的、不包含任何新信息的礼节性语言，并且反复使用同样的字眼。即使赞扬他人，那些话听起来也显得没有什么诚意。而女性正好相反，她们在称赞别人时，语言更加具体，听起来更加真诚。

这段文字主要表达的内容是：

A. 女人的社交能力胜过男人      B. 女人的语言能力胜过男人  
C. 男人谈话内容与女人不同      D. 男人谈话方式与女人不同

49. 私募的“钱途”在于退出。私募基金有一个好道路，才能安分守己。眼下，中国本土有 130 亿私募等待退出。一般情况下，IPO（公开募股）是私募退出的最佳选择。由于上市退出回报率最高，私募自然会将 IPO 奉为神灵。从政府角度，可以通过适当降低上市标准、改审核制为注册制等方式降低 IPO 门槛。还可以通过大力培育和发展产权交易市场，实现私募资金的退出。

这段文字旨在说明：

A. 政府应完善私募基金的退出机制  
B. 大力培育和发展产权交易市场是私募退出的途径  
C. 私募基金的退出是当前亟待解决的问题  
D. IPO（公开募股）是私募退出的首要选择

50. 在英国的教育中，要求孩子尊重的对象不仅局限于家人和朋友，还包括对所有生命都有爱心和责任感。喜爱小动物是孩子的天性，把珍惜和爱护小动物作为切入口，教导孩子珍爱生命是英国幼儿园、小学普遍采取的方式。此外，英国一些野生动物园组织或者救护中心也跟中小学有合作，经常组织学生参观他们收容救治的受伤动物和遭到遗弃的宠物。在这种教育背景下，家长也会刻意教育孩子理解生命的意义，把理性和温情代代相传。

这段文字主要谈论的是：

A. 尊重生命可以传递理性和温情  
B. 关爱生命可以从爱护小动物开始  
C. 生命教育依赖于家庭和社会的配合  
D. 生命教育的方式方法

51. 50 年来，全国道德模范孙茂芳先后赡养了 18 位孤残老人，与 11 位残疾人结为兄妹关系，还从家庭助困金中拿出 46 万多元资助 38 位学童和特困家庭。有人对他说：“你是不是有点傻啊？”他回答道：“我愿意当一辈子人民可信可托的‘傻子’，我还要带动更多人去做这样的‘傻子’。”

对于选文中“傻子”，理解**错误**的一项是：

A. “傻子”不是真的傻，而是把爱奉献给了社会  
B. “傻子”在这里是反语，明贬暗褒

C. 自私之心人皆有之，所以很多人并不认可孙茂芳的做法

D. 从利我的角度孙茂芳是“傻子”，从利他的角度孙茂芳是“智者”

52. 美国法理学家博登海默说：“正义有着一张普洛透斯似的脸，变幻无常，可随时呈现不同形状并具有极不相同的面貌。”在他看来，正义具有不确定性，不同的裁判者、不同的情境下正义会以不同面目示人。其实不然，正义绝对不会变幻莫测，不可琢磨，它不是裁判者随心所欲的个人情绪宣泄，它一定体现了人性中的真善美，不会挑战人类的良知、美德、慈爱等正义的情感。我们不能苛求所有法官对同一事实形成完全相同的观点，但执法者追求正义、惩恶扬善的目标不能偏离。

对这段文字理解**错误**的是：

A. 执法过程中应存异求同，避免各抒己见，莫衷一是  
B. 对同一事物的看法可以不同，但正义的标准是确定的  
C. 法官不能用“普洛透斯似的脸”来混淆是非，颠倒善恶  
D. 法官裁判应合乎基本准则和目标，不可背离正义和公平

53. 高薪贫困症是都市白领群体特有的焦虑症之一。从社会学角度来说，它可以理解为白领薪水高，但因为各种过高的债务和生活成本，常有收入不抵支出的“相对贫困”及由此带来的紧张焦虑感。从个人职业生涯发展的角度来说，可以理解为部分职场中人拥有较高的收入，但职业价值感不足，职业规划不清晰，内心诉求未得到满足，因而产生的职业心理焦虑。

根据这段文字，下列表述**正确**的是：

A. 大多数都市白领群体都患有高薪贫困症  
B. 白领的职业价值感不足导致产生高薪贫困症  
C. 高薪贫困症源于多种因素所带来的心理焦虑  
D. 入不敷出和职业规划不清晰必然产生高薪贫困症

54. 保护，对于破坏来说是好词汇，对于改革来说却不一定是。我们过去不太尊重地方剧种，现在去尽力保护，心情可以理解。但是，我们要继续把中国文化推向创新之路的时候，非要保留那么多的东西是有问题的。能不能有更多的年轻艺术家，不要再分到一个已经没有太多希望、两年也没有一个观众的剧团里面去？有没有可能让他们汲取一些流行音乐、西方音乐剧的元素，创造出一种新的剧种，为当代人所喜欢？

这段文字要表达的核心观点是：

A. 要把中国文化推向创新之路需要有所舍弃  
B. 一味的保护不利于改革和创新  
C. 没有观众的剧团应该汲取一些新鲜元素，创造出一种新的剧种  
D. 濒临灭绝的剧种缺的不是保护而是创新

55. 上世纪 90 年代以来，随着高新技术的发展，地震预测研究开拓了新领域。一些国家应用现有卫星信息开展各方面研究，并初步显示出地震活动与区域性和地方性异常相关联。上世纪后期，一系列全球性重大

地球科学计划的实施取得了许多重要进展，为人类探索地球、了解其内部结构提供了大量科学资料，并为地震预测研究提供新的基础。

对这段文字概括最恰当的是：

- A. 科学技术的发展为地震预测的发展带来了更多可能性
- B. 目前的地震预测准确度已经达到了一个较高的程度
- C. 区域性和地方性异常能较为准确地预测地震的发生
- D. 目前的地震预测能力尚处于初级阶段，与社会需求相距甚远

(一)

根据以下材料，回答下列 5 题

照相术传入之初，被认为是“妖术”，能“摄取灵魂”。国人对于照相误解颇多，甚至引发了中西冲突。为此，有照相馆宣扬拍摄照片能摄去“衰运”，由此吸引了大批民众。当然，照相馆真正发展，还得依赖科技知识的传播和照相馆自身务实的探索。

中国在照相馆开办时大都强调“中西结合”。1891 年，上海致直照相馆在《申报》上将自家特色“广而告之”，表示“巧设山石树林，曲栏园庭……仙客名媛、僧道剑侠，一应俱全”。照相馆拍照理念也被中国人引进，如 1930 年英国摄影学者古罗斯沙关于照相馆运营的论述，其中在如何抓拍顾客最自然的表情方面，他认为摄影师要“做一个深邃的观察者”，最重要的是“要有诚恳的态度”。

照相馆的名字最初多包含“昌”“泰”“福”等字，而且照相馆专注写实，主要拍摄肖像、个人与家庭留念照以及团体合影，因此“真”字也为商家青睐，成为晚清民国照相馆名字选用最多的汉字之一。追求馆名中国传统意蕴的同进，这些照相馆开始追求画面的意境之美，在灯光运用、背景道具、人物姿态、表情抓拍等方面，摄影师在模仿西方摄影造型的同时，又把中国人所认同的庄重、内敛、隐逸等精神追求融入照片拍摄和制作中，从而创造出有中国特色的照相馆审美范式。

自 20 世纪 20 年代起，在新文化运动的影响下，照相从实用转向时尚，照相馆名也越来越有国际范儿，出现“派拉蒙”“维也纳”等馆名。社会名流尤其是明星如周璇、胡蝶等人的照片，成为都市风尚，普通百姓竞相效仿。照相馆印制大量明星、权贵肖像进行商业销售，并在大众出版物上刊登，在普通摄影术的同时，其所代表的时尚品位和审美情调，也引领大众社会生活走向现代化。

照相馆发展的同时，人们对理想肖像的期待从未停止，事实上，中国译介出版的第一部摄影专著《脱影奇观》的广告中，就明确表示照相术可以“再造容颜”。这首先要依靠化妆，接着是“整修”，有如今天的 PS，在拍完照片进行冲印的过程中，美化照片。后来，这项业务蔚为壮观，通过“PS”改头换面以至于亲娘难认。有人讽刺曰：“你瞧，这是照‘像’呢，还是照‘不像’呢？”

此后，时代剧变，日军侵华及国内战争给中国照相馆业带来严重破坏，20 世纪 50 年代末“公私合营”后，传统私营照相馆正式终结。改革开放后，乃至数码技术几乎一统天下的今天，照相馆仍然存在，但其精神内核已迥然不同。

56. 下列最符合照相馆在中国开办之初的摄影理念的是：

- A. 显微摄影唤真真，较胜丹青妙入神
- B. 令恶人化为西子，而仍不失本来面目
- C. 论画以形似，见与儿童邻
- D. 羚羊挂角，无迹可求，透彻玲珑，不可凑泊

57. 20 世纪 20 年代的摄影讲求：

- A. 实用
- B. 写实
- C. 时尚
- D. 复古

58. 下列照相馆名称按出现时间先后排列，最可能接近事实的是：

- ①东方红 ②美利丰 ③华昌 ④森泰 ⑤红旗 ⑥百乐门
- A. ①→②→③
  - B. ③→⑥→⑤
  - C. ④→①→②
  - D. ⑤→④→⑥

59. 根据文章，下列说法正确的是：

- A. “公私合营”标志着传统照相术的终结
- B. “整修”照片的泛滥遭到当时人的抵制
- C. “中西结合”是在多数照相馆开馆之初的理念
- D. 《脱影奇观》是中国人编写的首部摄影技术专著

60. 通过这篇文章，可以知道：

- A. 一部影像史就是一部中外交往史
- B. 照相馆折射出中国人的精神变迁
- C. 西方拍照理念先于照相术传入中国
- D. 20 世纪 30 年代中国人已经具有肖像权意识

**\*第二部分结束，请继续做第三部分!\***

**第三部分 数量关系**  
(共 15 题，参考时限 15 分钟)

在这部分试题中，每道题呈现一段表述数量关系的文字，要求你迅速、准确地计算出答案。  
请开始答题：

61. 有 15 个学生参加百分制的问答竞赛, 及格线为 60 分, 15 人的平均成绩为 70 分, 有最高分 91 分和最低分 52 分, 且有三人不及格。所有人得分均为整数, 且彼此得分不同。问成绩排名第六的人最高得了多少分 ( )  
A. 76                      B. 79                      C. 81                      D. 83
62. 有一个报亭每天以 1 元每份的价格购进 200 份报纸, 并以 2 元每份卖出, 同时可以将没有卖出的部分以 0.5 元每份的价格让报社回收。该报亭星期一让报社回收若干份报纸, 其后每天报社都会比前一天多回收 10 份报纸。如果这个星期该报亭一共盈利 938 元, 则第一天有多少份报纸被回收 ( )  
A. 10                      B. 12                      C. 14                      D. 16
63. 某蛋糕店早上 9 点开始营业并出售某种小蛋糕, 该种小蛋糕有一部分库存, 同时有一名蛋糕制作师会现场制作。如果每小时售出 10 个, 到下午 6 点就会售完; 如果每小时售出 12 个, 到下午 4 点就会售完。如果中午 12 点就全部售完, 则每小时售出多少个 ( )  
A. 20                      B. 22                      C. 24                      D. 26
64. 某班共有 50 名学生参加概率论、统计和高数考试, 参加概率论考试的有 25 人, 参加统计和高数考试的分别有 23 人。其中, 同时参加概率论和高数考试的有 10 人, 同时参加概率论和统计考试的有 8 人, 同时参加统计和高数考试的有 7 人。请问, 同时参加三门考试的有多少人 ( )  
A. 10 人                      B. 8 人                      C. 6 人                      D. 4 人
65. 现有 10L 甲盐溶液和 8L 乙盐溶液, 取 4L 甲溶液和 4L 乙溶液混合后蒸发掉水分可以得到 6 克盐, 剩余甲溶液和剩余乙溶液混合后蒸发掉水分可以得到 7 克盐。那么, 如果取 2L 甲溶液和 3L 乙溶液混合混合溶液浓度为 ( )  
A. 0.6 克每升                      B. 0.8 克每升  
C. 1.0 克每升                      D. 1.2 克每升
66. 某工厂转移仓库, 让员工搬运库存货物, 如果每个员工搬 a 箱货物的话, 最后有 10 箱不能搬走, 如果每个员工搬 16 箱的话, 最后一个员工只需搬 9 箱。那么一共有多少箱货物需要搬 ( )  
A. 250                      B. 265                      C. 280                      D. 290
67. 一个正四面体的所有棱长都减少 20%, 则其外接球表面积如何变化 ( )  
A. 减少 20%                      B. 减少 36%                      C. 减少 4%                      D. 减少 40%
68. 某公司由甲、乙、丙、丁、四个子公司组成, 甲公司单独增产 10% 可以带动总公司增产 2%。乙、丙两公司在增产 20%, 而另一个减产 20% 的情况下, 两子公司带动总公司既不增产也不减产。若甲公司增产 20%, 乙公司和丙公司同时增产 10%, 丁公司没有变动, 总公司增产 10%。则丁公司占公司总产出的 ( )  
A. 10%                      B. 15%                      C. 20%                      D. 25%
69. 有一个盒子里有 4 个红球、4 个蓝球和 4 个黄球, 现随机无放回地从中取出 5 个球, 问取出的黄球比红球多的概率为 ( )  
A. 34.9%                      B. 35.9%                      C. 36.9%                      D. 37.9%
70. 一批饰品, 商店按某一利润率来定价, 结果只销售掉 60%。为了尽快回收资金, 商店决定打对折出售其余部分, 最后只获得了原来期望利润的 40%, 则商店原定利润率是多少 ( )  
A. 40%                      B. 50%                      C. 60%                      D. 75%
71. 甲、乙两人参加自行车赛, 在某一段直线赛道上, 甲在经过 A 点时由于故障原地停下。3 分钟后甲重新出发, 并以 1.5 米每平方秒的加速度加速至 12 米每秒后匀速前进。甲出发 4 秒后, 乙以 9 米每秒的速度经过 A 点并匀速前进。那么, 两人相距最近时相距多少 ( )  
A. 0 米                      B. 9 米                      C. 18 米                      D. 24 米
72. 某工厂每小时可生产某零件 1080 个, 男员工每小时可生产 20 个, 女员工每小时可生产 15 个。后经过调整, 男员工的生产效率提高了 25%, 但是女员工的生产效率降低了 20%, 最终每小时的产量不变。那么, 该工厂可能有男员工多少人 ( )

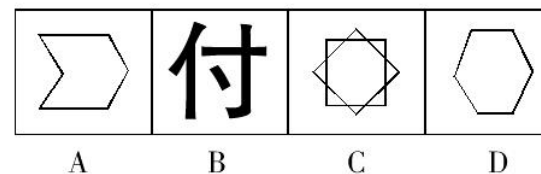
- A. 18                      B. 20                      C. 24                      D. 28
73. 甲、乙、丙三人参加飞镖比赛, 三人的总分数为 84 分, 且三人得分依次成公比为正整数的等比数列。现已知三人分数都能被 3 整除, 则三人中第二名的得分为 ( )  
A. 18                      B. 21                      C. 24                      D. 27
74. 某学校军训后进行方阵汇演, 某空心方阵的最里面一层有 32 人, 中间一层有 56 人, 那么最外面两层一共有多少人 ( )  
A. 136                      B. 152                      C. 168                      D. 184
75. 小谢的工作每周按规定周末双休, 某年的六月份小谢一共休息了 8 天, 这 8 天的日期之和为 120, 那么这个月的第三个星期四是几号 ( )  
A. 13                      B. 14                      C. 15                      D. 16

\*第三部分结束, 请继续做第四部分!\*

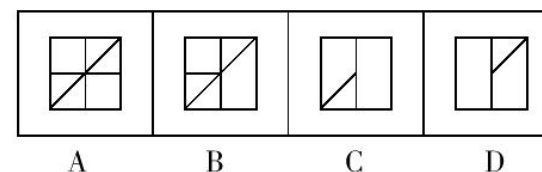
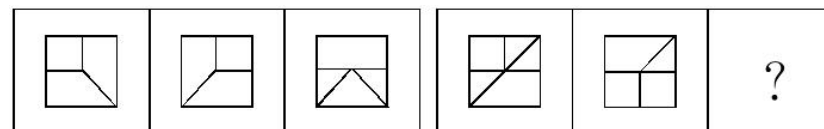
#### 第四部分 判断推理 (共 40 题, 参考时限 35 分钟)

## 一、图形推理。本部分共 10 题。

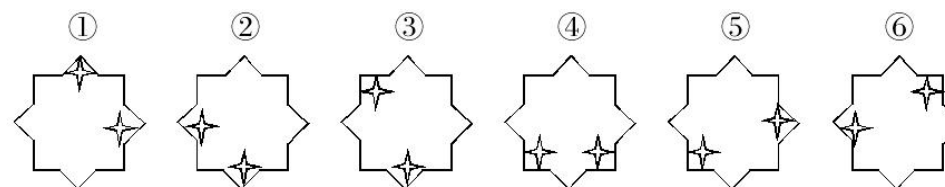
76. 从所给的四个选项中, 选择最合适的一个填入问号处, 使之呈现一定的规律性:



77. 从所给的四个选项中, 选择最合适的一个填入问号处, 使之呈现一定的规律性:



78. 把下面的六个图形分为两类, 使每一类图形都有各自的共同特征或规律, 分类正确的一项是:



A. ①②⑥, ③④⑤

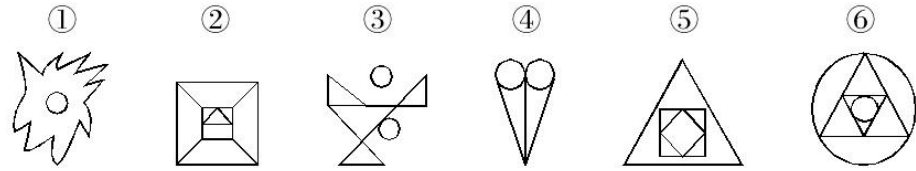
B. ①④⑤, ②③⑥



C.①③⑥, ②④⑤

D.①②④, ③⑤⑥

79. 把下面的六个图形分为两类, 使每一类图形都有各自的共同特征或规律, 分类正确的一项是:



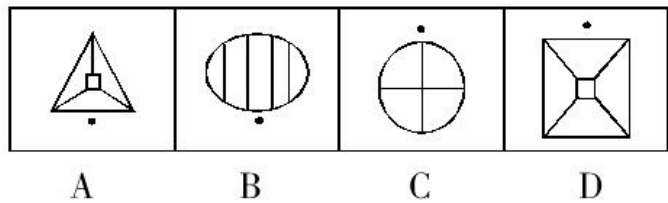
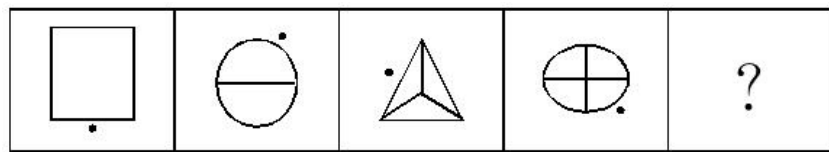
A.①②④, ③⑤⑥

B.①③⑤, ②④⑥

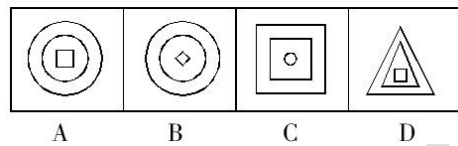
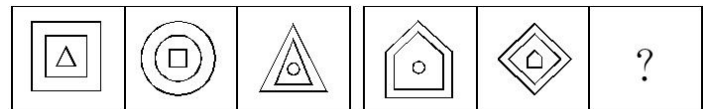
C.①③⑥, ②④⑤

D.①④⑥, ②③⑤

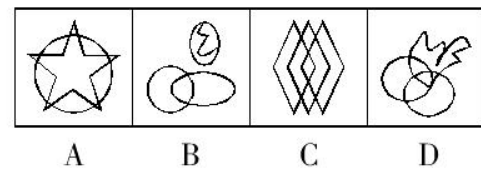
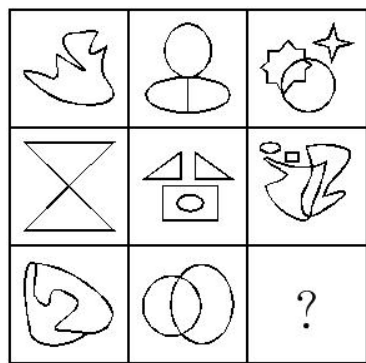
80. 从所给的四个选项中, 选择最合适的一个填入问号处, 使之呈现一定的规律性:



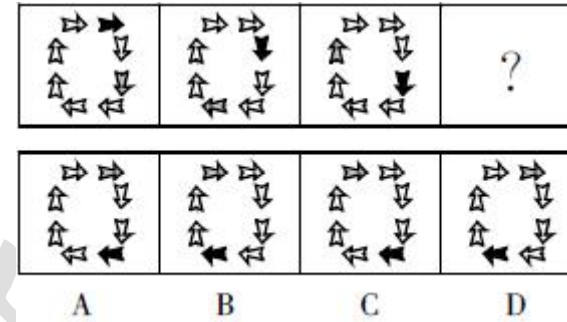
81. 从所给的四个选项中, 选择最合适的一个填入问号处, 使之呈现一定的规律性:



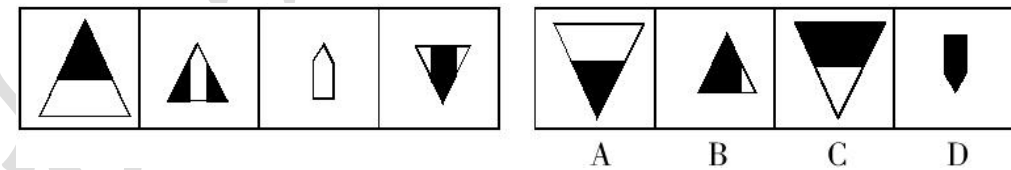
82. 从所给的四个选项中, 选择最合适的一个填入问号处, 使之呈现一定的规律性:



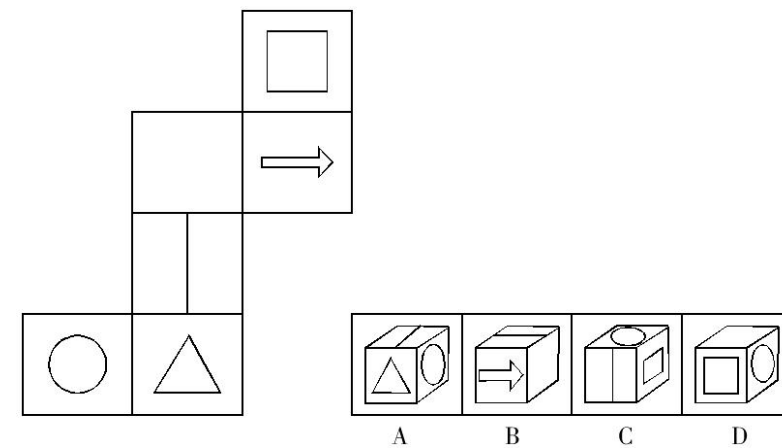
83. 从所给的四个选项中, 选择最合适的一个填入问号处, 使之呈现一定的规律性:



84. 从所给的四个选项中, 选择最合适的一个, 使之呈现一定的规律性:



85. 左边给定的是纸盒的外表面, 右边哪一项能由它折叠而成?



**二、定义判断。每道题先给出定义, 然后列出四种情况, 要求你严格依据定义, 从中选出一个最符合或最不符合该定义的答案。注意: 假设这个定义是正确的, 不容置疑的。**

**请开始答题:**

86. 涵化是指不同文化的群体间发生持续的接触, 从而导致原有文化发生变迁的现象。

根据上述定义, 下列不属于涵化的是:

- A. 历史上英国曾将其法治文化和政治体系推行到自己的殖民地
- B. 在 20 世纪, 牛仔裤成为了风靡世界的时尚穿着
- C. 近年来, 越来越多的外国人对中国文化感兴趣, 纷纷来中国学习汉语
- D. 由于英国曾长期受罗马帝国的统治及罗马天主教的影响, 英语词汇中出现大量拉丁语词

87. 归谬法是指对一错误论题不直接否定，而是先假定其真，然后据此导出荒谬的结果，由结果的荒谬推出该论题的荒谬，从而间接地否定错误论题的论证手法。

根据上述定义，下列**不属于**归谬法的是：

A. 有个病人对住院处的护士说：“请把我安排在三等病房，我很穷。”“没有人能帮助您吗？”“没有，我只有一个姐姐，她是修女，也很穷。”护士听了生气地说：“修女富得很，因为她和上帝结婚。”

“好，您就把我安排在一等病房吧，以后把账单寄给我姐夫就行了。”

B. 甲向乙解释：“我演奏的是高雅的流行乐曲。”乙反问一句：“流行的乐曲就是高雅的吗？”甲听了很是吃惊：“不高雅的东西怎么能够流行呢？”乙笑着说：“那么，流行性感冒也是高雅的了？”

C. 某人坚决反对杀生，他劝告人们说：“你如果在世时杀了一头猪，来生就要变成一头猪；你在世时杀了一头牛，来生就要变成一头牛。”这时一个听众说：“那不如去杀人吧。”

D. 有一次，一位英国女记者读了文学大师钱钟书的作品，对钱钟书很仰慕，非要见他，在电话中钱钟书对该女士说：“假如你吃了个鸡蛋，觉得味道不错，就够了，何必非要认识那只下蛋的母鸡呢？”

88. 生物灾害：指在处理微生物病原体或者包含微生物病原体的材料以及被其感染的个体时造成的对工作人员的危害或者伤害。

下列属于生物灾害的是：

A. 由于抗生素的作用，普通细菌产生了耐药性，在经历结构变异后，变得更难治疗，成为超级病菌，仅欧洲每年就有 2 万多人被感染，参与救治的多名医生被击倒

B. 在自然界中，人类与各种动植物相互依存，可一旦失去平衡，灾难就会接踵而至。某地鸟、蛇被大量捕杀，结果招致老鼠泛滥成灾

C. 水葫芦繁殖速度极快，大量的水葫芦覆盖河面，容易造成水质恶化，影响水底生物的生长，滇池、太湖等地均出现过水葫芦泛滥成灾的情况

D. 由于干旱，蝗灾开始泛滥，大片芦苇叶被蝗虫吃得精光，尚未长出翅膀的成群蝗虫正向附近的草滩和农田逼近

89. 幽默诉求广告：指通过幽默情趣来淡化广告的直接功利性，减少人们对广告所持的逆反心理，使消费者在轻松快乐中接受某种商业或文化信息。

下列属于幽默诉求广告的是：

A. 某商场电子屏：您还在为手里的几张号码卡而烦恼吗？本商场隆重推出新款手机，一台手机同时装三张号码卡，手机还免费送，免去您携带多部手机的烦恼

B. 某电视汽车广告：0 油耗也能时速 200 公里！以清洁能源，甩掉碳排放对世界的压力；凭借超前科技激发电力能效，于风驰电掣中驾驭澎湃激情；通过感应地面电磁场无线充电，不受任何人牵制

C. 某杂志“幽默”栏目：一顾客对售货员大发雷霆：“自打我用了从你们这里买的生发水以后，我的头发就全脱掉了！”售货员：“一点儿不错，先生。要想长出新头发，就必须先腾出地方。”

D. 某山区公路电子屏：阁下驾驶汽车，时速不超过 30 公里，可以欣赏到本地的美丽景色；超过 60 公里，请到法庭做客；超过 80 公里，请光顾本地设备最新的医院；上了 100 公里，祝您安息吧

90. 能力的补偿是指同一个体的不同能力之间或组织内部成员之间能力的相互替代或补偿作用，从而保持或维持活动的正常进行。其中辐射补偿是指优势能力有效地加强了各种能力之间的相互联系或带动其他能力同时提高的现象。放大补偿是指优势能力的高度发展，有效地弥补某些薄弱能力的现象。

根据上述定义，下列各项中应用了辐射补偿的是：

A. 甲国足球队 7 号球员奔跑速度快，盘带技术强，在他的带动下，本方多次突破对方防线，射门得分

B. 乙国篮球运动员在体能上存在不足，但是他们凭借“魔鬼训练”弥补了身体条件上的不足，创造了奥运会三连冠的佳绩

C. 丙国跳水队中一位小将技术全面，实力较强，但由于临场经验不足，有时会发挥失常。因此教练安排他参加团体比赛，第二个出场

D. 丁国乒乓球运动员的进攻实力是世界一流的，但是防守能力相对较弱，在多次世界大赛中他们依靠强大的进攻使对手疲于防守，从而取得胜利

91. 文化自觉是指生活在一定文化中的人，对自己的文化有“自知之明”，即明白它的来历、形成过程、特色和发展趋向，从而增强自身文化转型的能力，并获得在新的时代条件下进行文化选择的能力和地位。

此外，文化自觉还表现为应具有世界眼光，能够理解别的民族的文化，增强与不同文化之间接触、对话、相处的能力。

根据上述定义，下列选项属于文化自觉的是：

A. 经谈判，中方同意增加美国电影进入中国市场的配额

B. 为保护贵州梭嘎苗族文化习俗建立了梭嘎生态博物馆

C. 赵武灵王的“胡服骑射”与北魏拓跋氏的“禁断胡语”

D. 湖北省襄樊市与河南省南阳市都自称是“诸葛亮故里”

92. 利他行为：指人们出于自愿、不指望任何报酬的帮助他人的行为。

下列属于利他行为的是：

A. 小张营救失足落水儿童余某，事后希望余某家人付给其报酬

B. 小李制服企图抢劫的歹徒，事后，单位奖励他人民币 5000 元

C. 战士小李十年如一日，坚守边疆，荣立三等功

D. 丁某发现自己家中失火，迅速拨打 119，并协助消防人员灭火

93. 人力资产是指企业在一定时期内拥有或控制的、能以货币计量的、为企业带来未来经济利益的劳动力资源。它是对劳动力资源的投资资本化而形成的，即人力资产是企业招聘、挑选、录用、培训以及开发所花费的成本按照资产衡量标准确认的企业资产。

根据上述定义，下面**不属于**人力资产的是：

A. 优秀的管理人才

B. 创新的研发团队

C. 勤勉的生产工人

D. 高效的人事制度

94. 关系营销是指以市场和利润为导向的基础上, 卖方通过满足顾客全方位的需求, 不仅达成短期交易, 而且与顾客建立和保持长期的相互依赖关系, 创造出忠诚的顾客, 取得长期稳定的竞争优势。

根据以上定义, 下列哪项能体现关系营销?

A. 某广告公司在商场门口推出时尚表演, 以推广该公司的知名度

B. 某知名品牌服装在换季之时, 以低于成本的特优价格清仓甩卖

C. 某施工队以“绝不以次充好、按时保质完成”的承诺, 赢得了这次竞标

D. 某电脑销售公司在各地建立了维修站点, 提供快速、优质的售后服务

95. 巴纳姆效应: 指人们常常认为一种笼统的、一般性的人格描述十分准确地揭示了自己的特点。

下列属于巴纳姆效应的是:

A. 公共汽车上常发现一个人张大嘴打了个哈欠, 周围会有几个人也忍不住打起了哈欠

B. 当人的情绪处于低落、失意的时候, 对生活失去控制感, 安全感也就受到影响

C. 虽然算命先生说了许多无关痛痒的话, 但很多人都认为算命先生说得“很准”

D. 有人常会怀疑自己所做的决定或所做的事的正确性, 喜欢生活有些变化, 厌恶被人限制

**三、类比推理。每道题先给出一组相关的词, 要求你在备选答案中找出一组与之在逻辑关系上最为贴近、相似或匹配的词。**

**请开始答题:**

96. 伐木: 森林

A. 雕刻: 刻刀

B. 放牧: 草原

C. 汽车: 公路

D. 跑道: 赛场

97. 选择: 抉择

A. 爱好: 嗜好

B. 决定: 决策

C. 按时: 准时

D. 参加: 参与

98. 高粱: 白酒

A. 蚊帐: 被子

B. 黄豆: 酱油

C. 砖头: 水泥

D. 青草: 牛奶

99. 时间 对于 ( ) 相当于 ( ) 对于 压强

A. 钟表: 焦虑

B. 成长: 动力

C. 金钱: 心理障碍

D. 效率: 受力面积

100. 尼古丁: 香烟

A. 蜂蜜: 饼干

B. 冰毒: 毒品

C. 糖: 甘蔗

D. 萝卜: 蔬菜

101. 节能: 减排: 环保

A. 火药: 造纸: 四大发明

B. 起床: 步行: 上班

C. 生产: 销售: 管理

D. 锻炼: 营养: 健康

102. 司机: 驾驶室: 踩油门

A. 教师: 讲台: 育人

B. 医生: 医院: 开刀

C. 演员: 舞台: 艺术

D. 农民: 田地: 播种

103. 理论 对于 ( ) 相当于 ( ) 对于 设计

A. 实践: 规划

B. 建构: 图纸

C. 完美: 严密

D. 系统: 程序

104. 动物: 仙鹤: 长寿

A. 石头: 珠宝: 价值

B. 富强: 牡丹: 富贵

C. 傍晚: 黑暗: 光明

D. 植物: 玫瑰: 爱情

105. 钢笔: 墨水

A. 血管: 血液

B. 煤炉: 煤灰

C. 电钻: 钻头

D. 手枪: 子弹

**四、逻辑判断。每道题给出一段陈述, 这段陈述被假设是正确的, 不容置疑的。要求你根据这段陈述, 选择一个答案。注意: 正确的答案应与所给的陈述相符合, 不需要任何附加说明即可以从陈述中直接推出。**

**请开始答题:**

106. 自身不能制造胰岛素的人得尿毒症的几率是自身能制造胰岛素的人的三倍, 尿毒症是一种肾脏器官疾病, 通常造成肾功能的衰竭。由于胰岛素有效地保护了肾脏器官不被尿液中汞元素的伤害, 因此, 汞元素可能在尿毒症的形成过程中起主要作用。

如果下面每项内容真实可靠, 哪一项最有力地支持上面的推理 ( )

A. 不久以后, 人们就可以人工批量合成胰岛素给那些自身不制造的人们进行治疗

B. 许多自身不能制造胰岛素的人同样也缺乏制造其他一些物质的能力

C. 胰岛素除了保护了肾脏器官不被尿液中汞元素的伤害之外对肾脏器官没有其他作用

D. 当医生用肾脏器官分泌的肾上腺对患尿毒症的病人进行治疗时, 病人的病情会显著减轻

107. 父母不可能整天与他们的未成年孩子待在一起。即使他们能够这样做, 他们也并不总是能够阻止他们的孩子去做可能伤害他人或损坏他人财产的事情。因此, 父母不能因为他们的未成年孩子所犯的过错而受到指责或惩罚。

如果以下一般原则成立, 哪一项最有助于支持上面论证中的结论 ( )

A. 为成年孩子所从事的所有活动都应该受到成年人的监管

B. 在司法审判体系中, 应该像对待成年人一样对待未成年孩子

C. 父母有责任教育他们的未成年孩子去分辨对错

D. 人们只应该对那些他们能够加以控制的行为承担责任

108. 甲、乙、丙共同经营一家冰淇淋店。在任何时候, 必须至少有一人留守店内。也就是说, 如果丙外出, 那么, 如果甲也外出, 则乙必须留在店内。但问题是, 只有乙陪伴时, 甲才会外出。也就是说, 如果甲外出,

乙也必须外出。

以下哪项陈述与上面给定的条件不相容 ( )

- A. 甲能够外出  
B. 甲留在店内, 乙和丙外出  
C. 乙留在店内, 甲和丙外出  
D. 丙总留在店内

109. 汽油酒精, 顾名思义, 是一种汽油酒精混合物。作为一种汽车燃料, 和汽油相比, 燃烧一个单位的汽油酒精产生较多的能量, 同时排出较少的有害废气一氧化碳和二氧化碳。以汽车日流量超过 200 万辆的北京为例, 如果所有汽车都使用汽油酒精, 那么, 每天产生的二氧化碳, 不比北京的绿色植被通过光合作用吸收的多, 因此, 可以预计, 在世界范围内, 汽油酒精将很快进军并占领汽车燃料市场。

以下哪项如果为真, 都能加强上述论证, 除了 ( )

- A. 汽车每公里消耗的汽油酒精量和汽油基本持平, 至多略高  
B. 和汽油相比, 使用汽油酒精更有利于汽车的保养  
C. 使用汽油酒精将减少对汽油的需求, 有利于缓解石油短缺的压力  
D. 全世界汽车日流量超过 200 万辆的城市中, 北京的绿色植被覆盖率较低

110. 对进口钢材施加配额限制并不会有助于美国的大型钢铁厂。实际上, 配额有助于小型钢铁厂在美国的繁荣发展, 那些美国的小型钢铁厂将从美国的大型钢厂那里抢走比在没有配额时外国钢铁厂从大型钢铁厂那里抢走的更多的生意。

以下哪一项, 如果是正确的, 将对以上最后一句所作的宣称提出最严重的质疑 ( )

- A. 在决定用于某种特殊用途时的钢铁种类时, 质量而不是价格是一个主要因素  
B. 外国钢铁厂长时间以来生产的钢铁等级与美国大型钢铁厂生产的钢铁质量相当  
C. 美国小型钢铁厂生产规模小, 生产美国大型钢铁厂不生产的特种钢  
D. 美国对进口商品的配额经常引起其他国家对美国商品施加类似的配额

111. 甲、乙、丙三朋友去参观车展, 看到一款轿车。甲说: “这不是‘奇瑞’, 也不是‘荣威’。”乙说: “这不是‘奇瑞’, 而是‘红旗’。”丙说: “这不是‘红旗’, 而是‘奇瑞’。”后来, 车展管理员说: “三人中, 有一个人的两个判断都对; 另一个人的两个判断都错; 第三人的两个判断一一对错。”

根据以上的条件, 判断下列哪项为真 ( )

- A. 这辆轿车是奇瑞轿车  
B. 这辆轿车是荣威轿车  
C. 这辆轿车是红旗轿车  
D. 上面三辆轿车都不是

112. 某市宣传部举办为期一周的专题讲座, 讲座时间是周一到周六, 一共有四个专题, 分别是: 宏观政策、社情调查、网络办公以及文化传播。已知一天只能安排一个专题讲座, 再加上要考虑教师的时间安排, 此次讲座在总体上必须满足以下条件: (1) 每个专题至少进行一次; (2) 每个专题不能连续进行两次; (3) 宏观政策专题不能放在周二进行; (4) 文化传播专题或者放在周三或者放在周五, 也可能这两天都是文化传播专题; (5) 社情调查专题放在周二时, 文化传播专题就不放在周五。

根据这样的要求, 从周一到周六的讲座专题可以排列为 ( )

- A. 宏观政策、社情调查、文化传播、网络办公、宏观政策、宏观政策  
B. 宏观政策、网络办公、社情调查、文化传播、网络办公、社情调查  
C. 宏观政策、社情调查、文化传播、网络办公、文化传播、宏观政策  
D. 网络办公、社情调查、文化传播、宏观政策、网络办公、宏观政策

113. 刘健、马明、张益三个男同学各有一个妹妹, 这天, 六个人一起打乒乓球, 举行的是男女混合双打, 并且规定, 兄妹两人不搭伴。

第一盘对局情况是: 刘健和小萍对张益和小英。

第二盘对局情况是: 张益和小红对刘健和马明的妹妹

请根据题干的条件, 确定以下哪项为真 ( )

- A. 刘健和小红、马明和小英、张益和小萍各是兄妹  
B. 刘健和小英、马明和小萍、张益和小红各是兄妹  
C. 刘健和小萍、马明和小英、张益和小红各是兄妹  
D. 刘健和小红、马明和小萍、张益和小英各是兄妹

114. 一般商品只有在多次流通过程中才能不断增值, 但艺术品作为一种特殊商品却体现出了与一般商品不同的特性。在拍卖市场上, 有些古玩、字画的成交价有很大的随机性, 往往会直接受到拍卖现场气氛、竞价激烈程度、买家心理变化等偶然因素的影响, 成交价有时会高于底价几十倍乃至数百倍, 使得艺术品在一次“流通”中实现大幅度增值。

以下哪项最无助于解释上述现象 ( )

- A. 艺术品的不可再塑性决定了其交换价格有可能超过其自身价值  
B. 不少买家喜好收藏, 抬高了艺术品的交易价格  
C. 虽然大量赝品充斥市场, 但是对艺术品的交易价格没有什么影响  
D. 国外资金进入艺术拍卖市场, 对价格攀升起到了拉动作用

115. 已知有 6 个球, 3 个是木球, 3 个是皮球。其中, 5 个球沾有红色颜料, 4 个球沾有蓝色颜料。

则下列说法中, 有可能正确的一项是 ( )

- A. 两个皮球沾有蓝色颜料但都没有沾红色颜料  
B. 三个沾有红色颜料的木球都没有沾蓝色颜料  
C. 两个木球沾有红色颜料但都没有沾蓝色颜料  
D. 三个沾有蓝色颜料的木球中只有一个沾有红色颜料

**\*第四部分结束, 请继续做第五部分!\***

### 第五部分 资料分析

(共 20 题, 参考时限 20 分钟)

所给出的图、表、文字或综合性资料均有若干个问题要你回答。你应根据资料提供的信息进行分析、比较、计算和判断处理。

#### 一、根据以下资料, 回答 116~120 题。

2015 年 1~3 月, 国有企业营业总收入 103155.5 亿元, 同比下降 6%。其中, 中央企业收入 63191.3 亿元, 同比下降 7%; 地方国有企业收入 39964.2 亿元, 同比下降 4.2%。

1~3 月, 国有企业营业总成本 100345.5 亿元, 同比下降 5.1%。其中, 销售费用、管理费用和财务费用同比分别下降 2.9%、增长 2.3% 和增长 7.3%。其中, 中央企业成本 60216.5 亿元, 同比下降 6.4%; 地方国有企业成本 40129 亿元, 同比下降 3.1%。

1~3 月, 国有企业利润总额 4997.3 亿元, 同比下降 8%。国有企业应交税金 9383 亿元, 同比增长 0.13%。

3 月末, 国有企业资产总额 1054875.4 亿元, 同比增长 12%; 负债总额 685766.3 亿元, 同比增长 11.9%; 所有者权益合计 369109.1 亿元, 同比增长 12.2%。其中, 中央企业资产总额 554658.3 亿元, 同比增长 10.5%; 负债总额 363304 亿元, 同比增长 10.4%; 所有者权益为 191354.4 亿元, 同比增长 10.7%。地方国有企业资产总额 500217.1 亿元, 同比增长 13.8%; 负债总额 322462.3 亿元, 同比增长 13.7%; 所有者权益为 177754.7 亿

元，同比增长 13.9%。

116. 2014 年 1~3 月，国有企业营业总收入最接近（ ）

- A. 10.5 万亿元
- B. 11 万亿元
- C. 11.5 万亿元
- D. 12 万亿元

117. 2015 年 1~3 月，在销售费用、管理费用和财务费用中，占国有企业营业总成本的比重同比上升的有几项（ ）

- A. 0
- B. 1
- C. 2
- D. 3

118. 2015 年 3 月末，中央企业所有者权益占国有企业总体的比重比上年同期约（ ）

- A. 下降了 0.7 个百分点
- B. 下降了 1.5 个百分点
- C. 上升了 0.7 个百分点
- D. 上升了 1.5 个百分点

119. 2014 年 3 月末，中央企业的资产负债率（负债总额÷资产总额）约在以下哪个范围内（ ）

- A. 50%以下
- B. 50%~60%
- C. 60%~70%
- D. 70%以上

120. 能够从上述资料中推出的是（ ）

- A. 2015 年 1~3 月，中央和地方国有企业营业成本均低于同期营业收入
- B. 2014 年 1~3 月，国有企业应交税金占同期营业总收入的一成以上
- C. 2015 年 3 月末，国有企业资产总额同比增长不到 12 万亿元
- D. 2015 年 3 月末，地方国有企业资产负债率高于上年同期水平

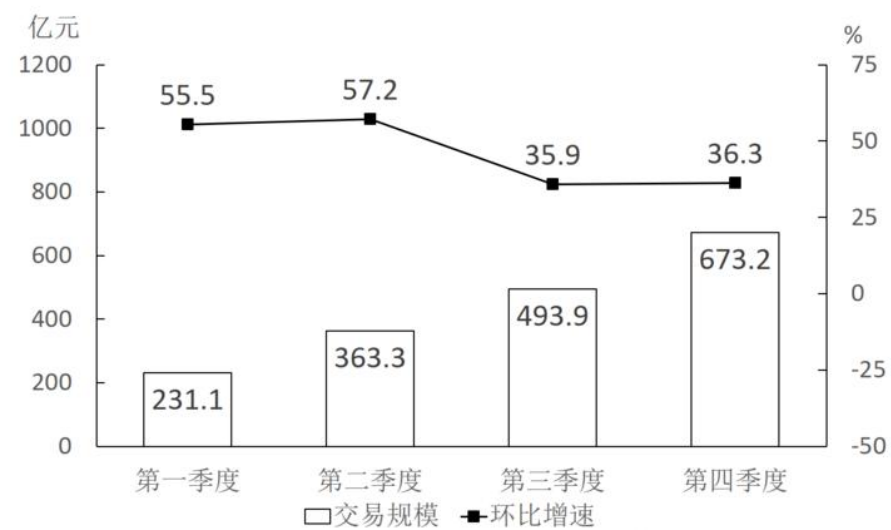
二、根据以下资料，回答 121~125 题。

2015~2016 年中国生活服务电商市场交易规模统计表

单位：亿元

	2015 年	2016 年
在线餐饮外卖市场	530.6	1761.5
移动出行市场	999.0	2038.0
在线旅游市场	4487.2	6138.0

2016 年中国在线餐饮外卖市场交易规模及环比增速



121. 2016 年在线旅游市场交易规模约比上年增加了（ ）

- A. 132%
- B. 63%
- C. 104%
- D. 37%

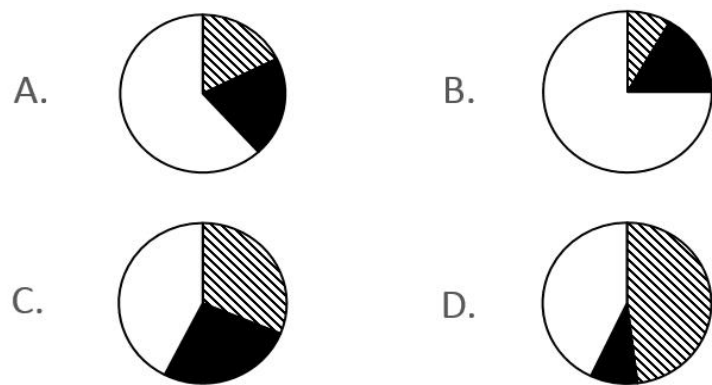
122. 2015 年第四季度在线餐饮外卖市场交易规模占全年交易规模的比重约为（ ）

- A. 21%
- B. 28%
- C. 37%
- D. 49%

123. 如按 2016 年移动出行市场同比增长趋势估算，2018 年该市场规模将为（ ）

- A. 接近 5000 亿元
- B. 6000 多亿元
- C. 8000 多亿元
- D. 超过 1 万亿元

124. 以下哪项最能准确描述 2016 年生活服务电商市场中，三个不同细分市场交易规模同比增量的比例关系（ ）



125. 能够从上述资料中推出的是 ( )

- A. 2015~2016 年在线旅游市场总规模超过 1 万亿元
- B. 2016 年每个季度的在线餐饮外卖市场环比增量都高于 100 亿元
- C. 2016 年移动出行市场月均交易规模比 2015 年高 100 多亿元
- D. 2016 年下半年在线餐饮外卖市场规模比上半年高 1 倍以上

三、根据以下资料，回答 126~130 题。

为了解市民家庭存书（不含教材教辅）阅读和共享意愿情况，某市统计局成功访问了 18 岁以上的常住市民 2007 人。调查显示，关于家庭存书共享意愿的问题，选择“无条件愿意”“有条件愿意”“不愿意”“不知道/不清楚”的受访市民所占比重分别是 60.8%、15.1%、20.6%、3.5%。

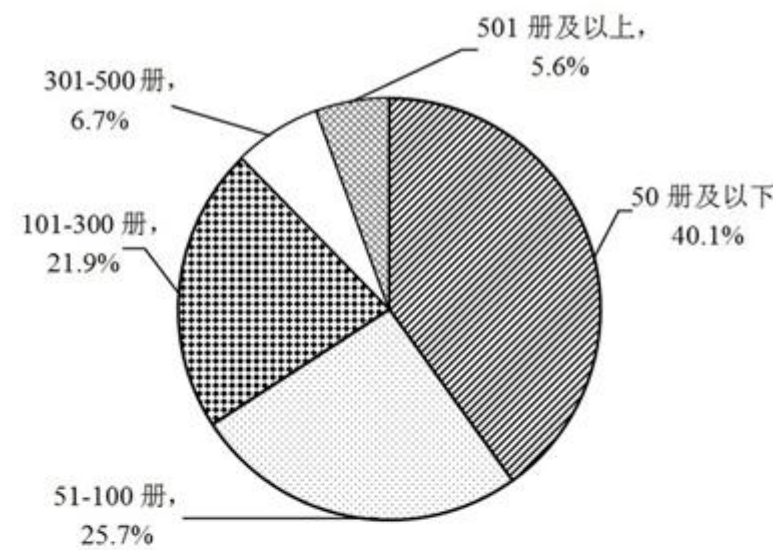


图 1 受访市民家庭存书情况

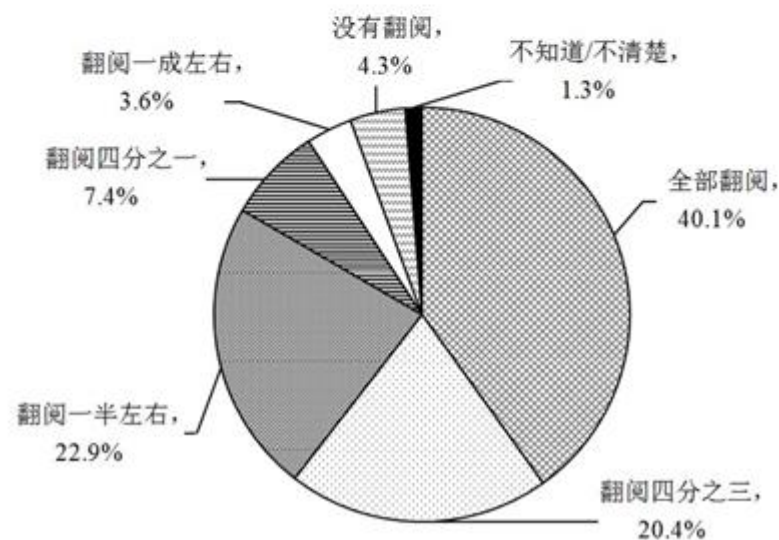


图 2 受访市民家庭存书翻阅情况

- 126. 家庭存书超过 300 册的受访市民人数为 ( )  
A. 134    B. 247    C. 616    D. 805
- 127. 选择“无条件愿意”共享家庭存书的受访市民比选择“有条件愿意”的多 ( )  
A. 5 倍    B. 4 倍    C. 3 倍    D. 2 倍
- 128. 家庭存书被翻阅不少于四分之一的受访市民人数不可能为 ( )  
A. 1825    B. 1810    C. 1846    D. 1838
- 129. 选择“无条件愿意”共享家庭存书的受访市民中，一定有人家庭存书为 ( )

- A. 50册及以下 B. 51-100册  
C. 101-300册 D. 301册及以上

130. 不能从上述资料推出的是 ( )

- A. 有一半以上的受访市民家庭存书不超过 100 册  
B. 家庭存书被翻阅 10.0%左右的受访市民不超过 100 人  
C. 家庭存书被全部翻阅的受访市民中有人选择“不愿意”共享家庭存书  
D. 选择“无条件愿意”与选择“不愿意”共享家庭存书的受访市民相差 800 人以上

四、根据以下资料，回答 131~135 题。

中国新能源汽车产业各类技术专利申请情况表

单位：件

年份	整车制造	电动机制造	储能装置制造	零部件配件制造	传能装置制造
2000	179	41	134	31	45
2001	225	53	143	30	67
2002	215	91	199	57	88
2003	345	156	272	81	137
2004	424	195	330	134	178
2005	554	323	524	282	267
2006	833	399	541	445	368
2007	994	474	1021	585	391
2008	1317	550	1422	745	462
2009	1389	585	1769	768	410
2010	1854	821	2497	1029	653
2011	2597	1088	3437	1553	831
2012	2603	1176	3277	1564	867
2013	2487	1162	3156	1618	797
2014	2035	807	2326	1232	745
2015	769	303	848	377	315

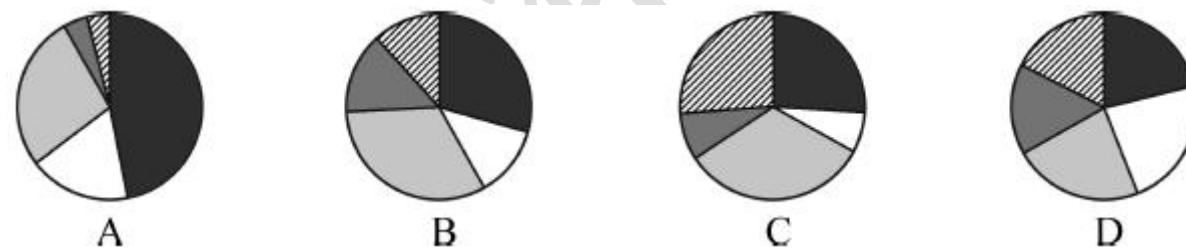
131. 表中新能源汽车产业零部件配件制造技术专利申请数增速最快的年份为 ( )

- A. 2005年 B. 2002年 C. 2014年 D. 2010年

132. “十二五”期间整车制造专利申请总数约是“十五”期间申请总数的多少倍 ( )

- A. 2 B. 4 C. 6 D. 8

133. 能够正确描述 2015 年新能源汽车产业五种专利申请数占比的统计图是 ( )



134. 2001~2015 年间，新能源汽车五种技术专利申请数均高于上年的年份有多少个 ( )

- A. 7 B. 8 C. 9 D. 10

135. 能够从上述资料中推出的是 ( )

- A. 2000~2015 年间，五种技术专利申请数年均增速最快的是零部件配件制造  
B. 2011~2015 年间，储能装置制造专利申请数均超过电动机制造的 3 倍  
C. 2010 年传能装置制造专利申请数比 2005 年翻了两番  
D. 2001~2015 年间，储能装置制造专利申请数增加最多的年份是 2010 年

※※※※全部测试到此结束※※※※